



**1 – Situer le monde grec**

**2 – Les cités-États**

**3 – Athènes et Sparte**

**4 – La religion**

**5 – Les Jeux olympiques**

**6 – Alexandre le Grand**






## Pourquoi étudier la Grèce antique ?




Université



Architecture




Politique



Loisirs




Arts



Philosophie



Maçonnerie



Graphisme



Tourisme



Culture g.



1) Quand et où vivaient les Grecs de l'Antiquité ?

**But : créer une frise chronologique de 4 dates et événements clés.**





### 1) Quand et où vivaient les Grecs de l'Antiquité ?

#### 1.A) Représentations :

Indique à gauche si la proposition est (V) vraie ou (F) fausse. Indique la correction à droite.

**Les Grecs vont installer des colonies au nord de l'Afrique.**

**V**

**Les Grecs échangent des connaissances avec les Chinois.**

**F**

**Alexandre le Grand est le romain qui soumet la Grèce.**

**F**

**Les Grecs croyaient que les dieux vivaient sur le mont Olympe.**

**V**

**Les Jeux olympiques se déroulaient à Olympie.**

**V**



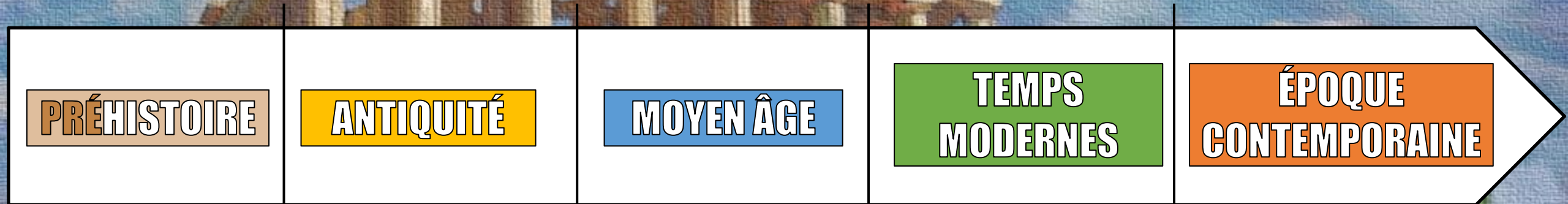
# La Grèce antique



## Rappel



1) Quand et où vivaient les Grecs de l'Antiquité ?



-3500

476

1453

1789

**GRÈCE ANTIQUE**

**ROME**

**ÉGYPTE**

**PERSE**



# La Grèce antique



1) Quand et où vivaient les Grecs de l'Antiquité ?



 Regarde la vidéo « Se situer dans le temps ».





1) Quand et où vivaient les Grecs de l'Antiquité ?

Début de la  
Grèce antique

Alexandre  
Le Grand

-800

-776

A

B

-500

C

Époque classique

-300

D

Époque hellénistique

-150

Domination romaine

Athènes  
domine

Rome  
domine

A Premières cités-États

B Premiers Jeux olympiques

C Démocratie à Athènes

D Conquêtes d'Alexandre

CONSTRUIRE UNE FRISE

CHRONOLOGIQUE

# La Grèce antique



1) Quand et où vivaient les Grecs de l'Antiquité ?



**1.B)** Complète le texte à trous :

On fait débuter la Grèce antique aux alentours de **-800** .  
Vers **-500** la cité d' **Athènes** domine la Grèce ; vers  
**-300** ce sont les conquêtes d' **Alexandre le Grand** et  
vers **-150** les **romains** s'imposent en Grèce.

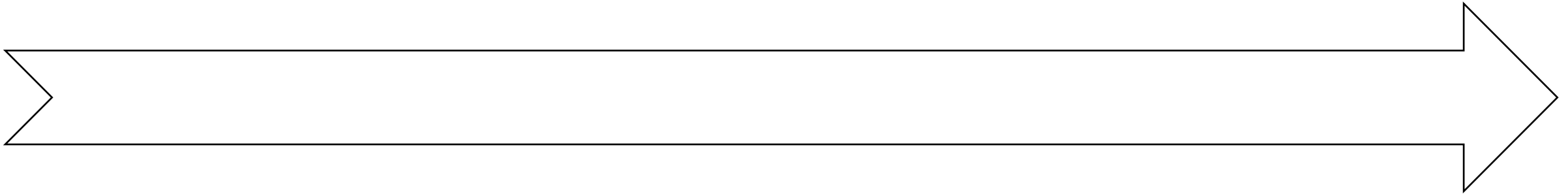






**1.B) Avec les informations ci-dessus, construis une frise chronologique de 4 dates et 4 événements clés de la Grèce antique. :**

## Création individuelle





### 1) Quand et où vivaient les Grecs de l'Antiquité ?

A quelle date fait-on débiter la Grèce antique ?

**vers -800**

Quelle ville domine vers -500 ?

**Athènes**

Quel conquérant s'impose vers -300 ?

**Alexandre le Grand**

Vers quelle date Rome conquiert la Grèce ?

**vers -150**



1) Quand et où vivaient les Grecs de l'Antiquité ?

**But : créer une carte qui situe le monde grec et ses principales parties.**





## 1) – Quand et où vivaient les Grecs de l'Antiquité ?





## 1) – Quand et où vivaient les Grecs de l'Antiquité ?



# La Grèce antique



1) Quand et où vivaient les Grecs de l'Antiquité ?



## Création en classe



**1.C)** Avec le **Manuel pp.6, 9** place sur la carte un ● pour les cités (rien pour les vastes régions) puis les numéros des éléments suivants :

- 1) **Athènes**
- 2) **Olympie**
- 3) **Sparte**
- 4) **Macédoine**
- 5) **Péloponnèse**
- 6) **Perse**
- 7) **mont Olympe**



# La Grèce antique



1) Quand et où vivaient les Grecs de l'Antiquité ?



**Puis ajoute sur la carte ci-dessous les éléments complémentaires suivants :**

**Byzance, Crète, Marseille, mer Egée, Troie**

**et colorie les zones colonisées par les Grecs.**

**Manuel pp. 6, 9.**



# La Grèce antique



1) Quand et où vivaient les Grecs de l'Antiquité ?



**1.E) Complète le texte à trous :**

**Athènes** devient la cité principale du monde grec ; Sparte se situe dans la région du **Péloponnèse** . Au nord de la Grèce se trouve la **Macédoine** . Il ne faut pas confondre le mont **Olympe** (la montagne des dieux) et **Olympie** (où se déroulent les Jeux olympiques).







1) Quand et où vivaient les Grecs de l'Antiquité ?

Quelle cité-État devient la principale du monde grec ?

**Athènes**

Dans quelle région se situe Sparte ?

**le Péloponnèse**

Quel territoire se trouve au nord de la Grèce ?

**la Macédoine**

Avec quelle montagne Olympie ne doit pas être confondue ?

**le mont Olympe**



2) La Grèce antique forme-t-elle un pays ?

**But : utiliser la notion de cités-États et analyser l'intérêt d'avoir des colonies.**





### 2) La Grèce antique forme-t-elle un pays ?

#### 2.A) Représentations :

Indique à gauche si la proposition est (V) vraie ou (F) fausse. Indique la correction à droite.

**Athènes est la capitale de la Grèce antique.**

**F**

**Marseille était une colonie grecque.**

**V**

**Genève était aussi une colonie grecque.**

**F**

**L'empire Perse était un empire qui correspond à l'Égypte actuelle.**

**F**

**Athènes et Sparte se sont fait la guerre.**

**V**



# La Grèce antique



21 La Grèce antique forme-t-elle un pays ?



Regarde la vidéo « Les cités-États ».

Complète les définitions :

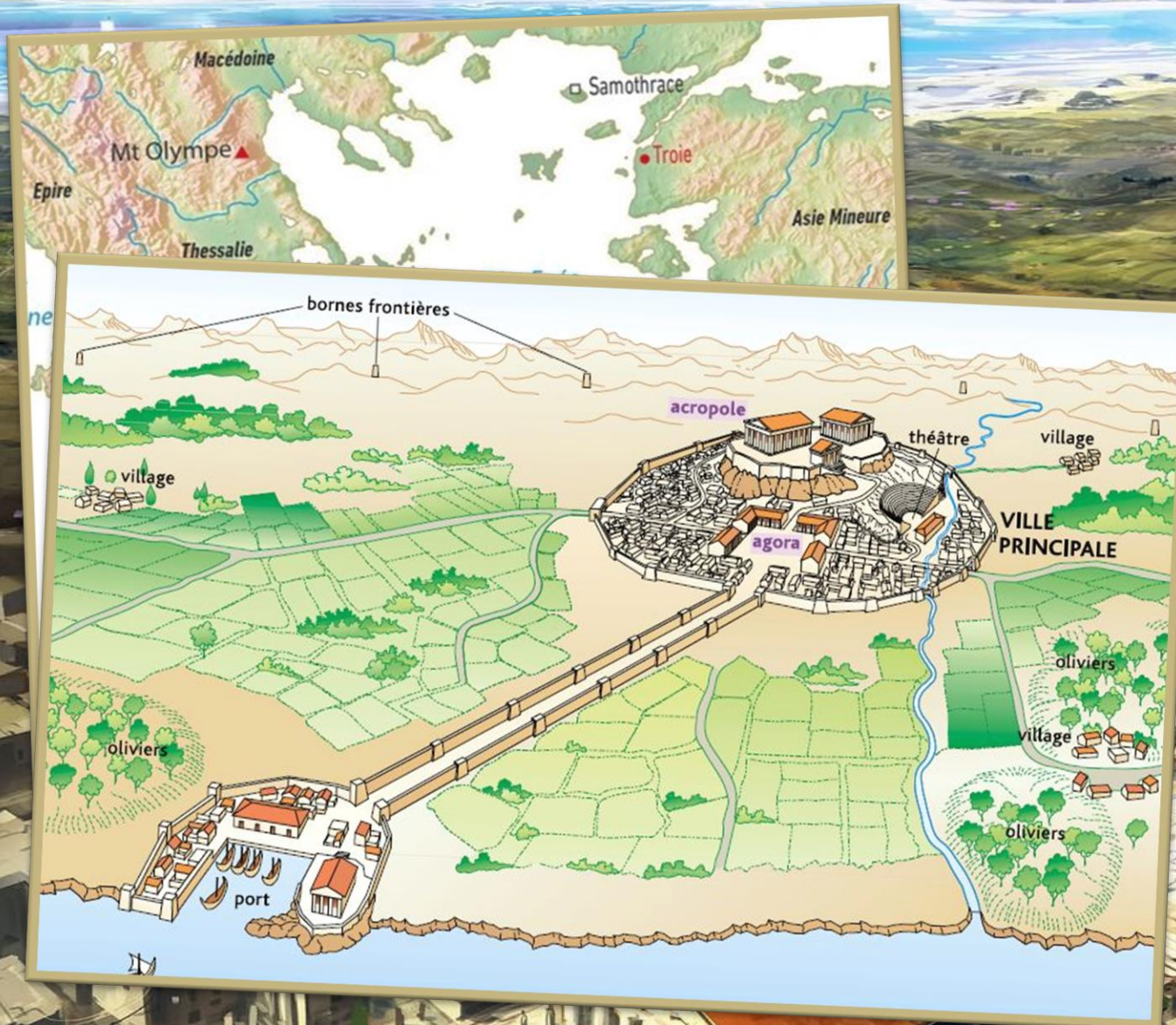
**polis** = veut dire « cité » en grec.

**colonies** = territoire détenu hors de ses propres frontières.





## 21 – La Grèce antique forme-t-elle un pays ?

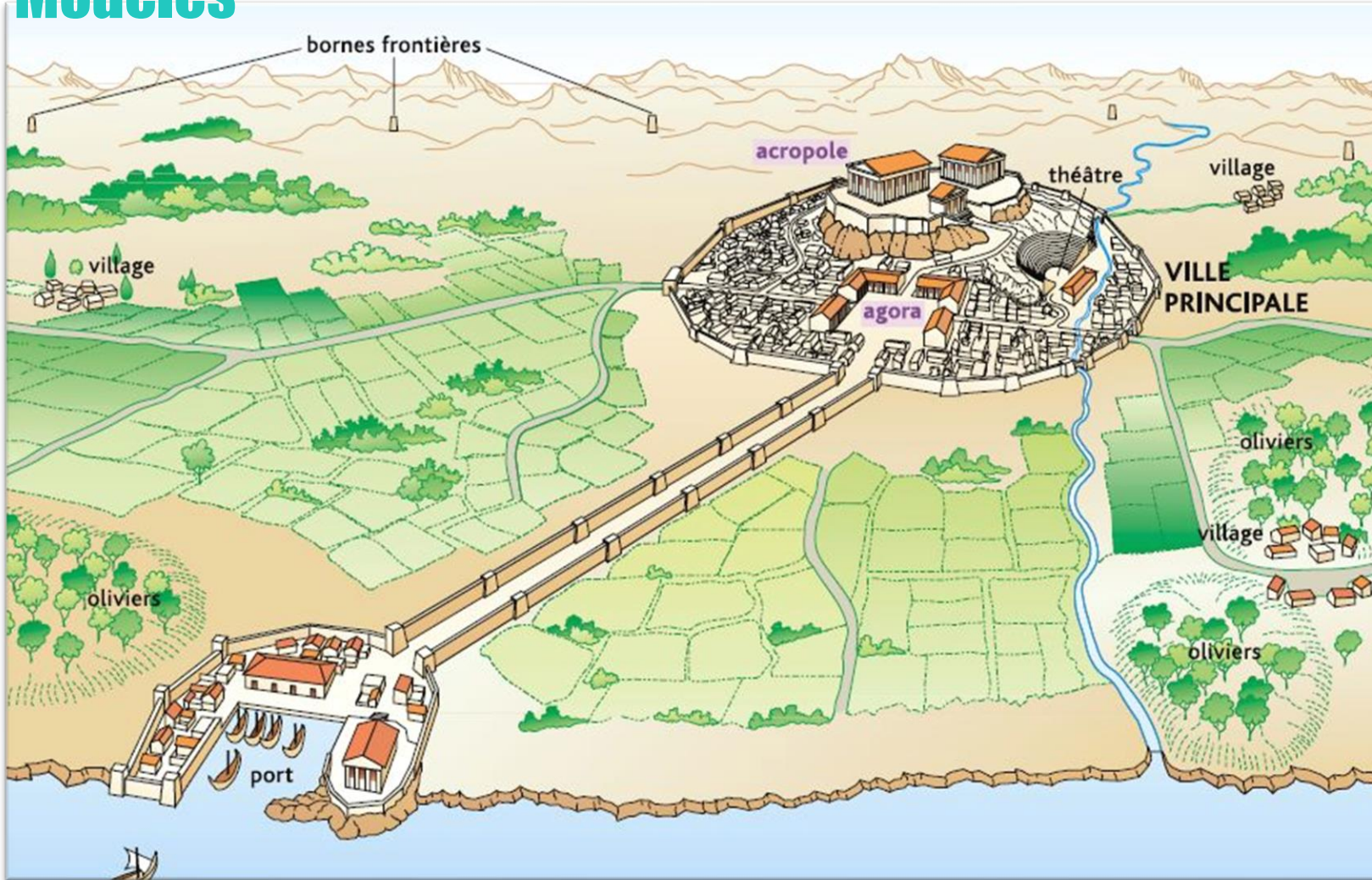


LES  
**CITÉS-ÉTATS**



### 2. B) A l'aide des textes et des modèles, dessine une cité-État grecque typique.

#### Modèles





### 2.C) Complète le texte à trous :

La Grèce antique ne forme **pas** un pays **uni**. Elle est composée de **cités-États** (= **polis**\* en grec) qui sont indépendantes les unes des autres et qui fondent des **colonies**\* pour se procurer les **ressources** naturelles dont elles manquent.





### 2) La Grèce antique forme-t-elle un pays ?

La Grèce antique forme-t-elle un pays uni ?

**Non**

Quel nom donne-t-on aux villes qui composent la Grèce antique ? (FR+Grèc)

**les cités-États / polis\***

Quel nom donne-t-on à un territoire détenu hors de ses propres frontières.

**une colonie\***

De quoi manquent les cités-États et qui explique la fondation de colonies ?

**de ressources naturelles**





 Regarde la vidéo « **Situer le monde grec** » et résume l'intérêt que les grecs ont d'avoir fondé des colonies.

Selon vos réponses

.....

.....

.....





2) La Grèce antique forme-t-elle un pays ?

**But : démontrer que les Grecs savent **s'unir** mais **se battent** aussi entre eux.**





Regarde la vidéo « Les guerres médiques ».

2.D) A l'aide du Manuel p.14 réponds aux questions.

Vers quel siècle se déroulent les guerres médiques ? ..**Selon vos réponses**

Pour quelle raison les Perses veulent-ils punir les Grecs ?

.....

Quelles cités n'acceptent pas la domination perse ? .....

Quelle bataille de -490 donne son nom à un course d'endurance ?

.....






### 21 – La Grèce antique forme-t-elle un pays ?

**-490 MARATHON**

**-480 THERMOPYLES**

**-480 SALAMINE**



**LES GUERRES  
MÉDIQUES**



 Regarde la vidéo « [La guerre du Péloponnèse](#) ».

**2.E)** A l'aide du **Manuel** p.15 réponds aux questions.

**Selon vos réponses**

**Après la paix avec la Perse, quelles sont les relations entre cités grecques ?**

..... **Quelle puissance va profiter de cette division ?** .....

**De quel roi macédonien Alexandre III est-il le fils ?** ..... **A quel âge meurt**

**Alexandre ?** ..... **Quelle ville a-t-il fondé en Égypte ?** ..... **Qui se**

**partage son empire à sa mort ?** ..... **Comment appelle-t-on les**

**royaumes qui apparaissent ?** ..... **Qui domine ensuite**

**les cités grecques ?** .....





## 21 – La Grèce antique forme-t-elle un pays ?

### Ligue de Délos (Athènes)



### Ligue du Péloponnèse (Sparte)



## LA GUERRE DU

# PÉLOPONNÈSE



**2.F) Dessine le guerrier grec typique que l'on appelle un « hoplite ».**

**Écris sur ton dessin en les pointant par des flèches les parties suivantes :**

- **hoplon (bouclier)**
- **lance (2m)**
- **épée à double tranchant (45cm)**
- **cimier**





**2.G)** Complète le texte à trous :

Les Grecs savent s'unir, comme lors des guerres **médiques** contre l'Empire **perse** (l'Iran d'aujourd'hui) du roi **Darius** (vers -500). Mais ils se battent aussi entre eux, la rivalité entre Athènes et **Sparte** est très forte.







### 2) La Grèce antique forme-t-elle un pays ?

Contre qui se battent les Grecs lors des guerres médiques ?

**L'Empire perse**

Cite le nom d'un roi perse des guerres médiques :

**Darius**

Vers quelle date se déroulent les guerres médiques ?

**vers -500**

Quelles cités grecques sont très rivales l'une envers l'autre ?

**Athènes et Sparte**



**3)** La Grèce antique a-t-elle inventé la démocratie ?

**But :** comparer l'organisation de **Sparte** et **Athènes** ; définir la **démocratie**.





### 3) La Grèce antique a-t-elle inventé la démocratie ?

#### 3.A) Représentations :

Indique à gauche si la proposition est (V) vraie ou (F) fausse. Indique la correction à droite.

**La cité de Sparte est connue pour sa force militaire.**

**V**

**Athènes s'appelle ainsi car sa déesse protectrice est Athéna.**

**V**

**Le Colisée est un temple dédié à Athéna à Athènes.**

**F**

**Athènes invente la dictature militaire.**

**F**

**A Athènes, la démocratie apporte l'égalité entre hommes et femmes.**

**F**



# La Grèce antique



3) La Grèce antique a-t-elle inventé la démocratie ? 

 Regarde la vidéo « Sparte ».

 Quel pourcentage obtiens-tu au quiz Kahoot ?





## 3) – La Grèce antique a-t-elle inventé la démocratie ?



**HOPLITE** Le soldat grec



 **Vidéo**  
Sparte, cité de la guerre  
Durée : 4 minutes

**DANS LA PLAINE DE LACONIE**

# SPARTE



3) – La Grèce antique a-t-elle inventé la démocratie ?



Vidéo

Le Parthénon coloré

Durée: 4 minutes

# PARTHÉNON

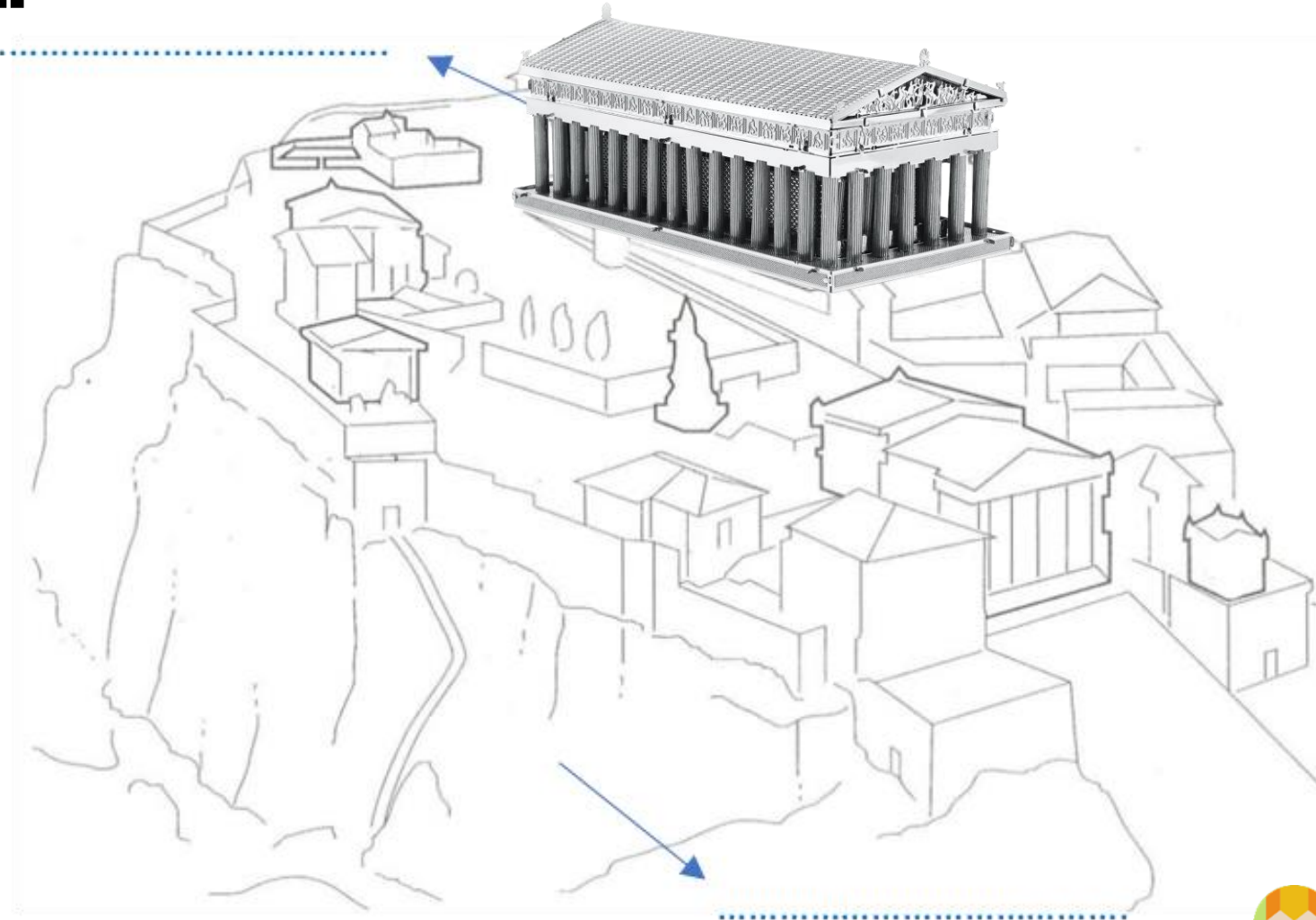

# ACROPOLE

LA VILLE DE L'ATTIQUE

# ATHÈNES



**3.B) Complète le plan d'Athènes en redessinant le Parthénon et en ajoutant quelques couleurs.**



# La Grèce antique



3) La Grèce antique a-t-elle inventé la démocratie ? 


 Complète les définitions :

**spartiate** = signifie « strict », « à la dure ».

**Parthénon** = temple dédié à Athéna à Athènes.

**Acropole** = dans une cité, partie en hauteur.

**démocratie** = système dans lequel le peuple a le pouvoir.







### 3.C) Complète le texte à trous :

Si la cité de **Sparte**... est connue pour son organisation «spartiate\*» et sa force **militaire**, celle d'Athènes construit le **Parthénon**\*, dédié à **Athéna**, au sommet de l'**Acropole**\*. Elle fait surtout naître la **démocratie**.\*





### 3) La Grèce antique a-t-elle inventé la démocratie ?

Quel adjectif veut dire « strict, à la dure » ?

**spartiate\***

Quel temple dédié à Athéna est construit à Athènes ?

**le Parthénon\***

Sur quelle colline est construit le Parthénon ?

**l'Acropole\***

Dans quel système né à Athènes le peuple a le pouvoir ?

**la démocratie\***



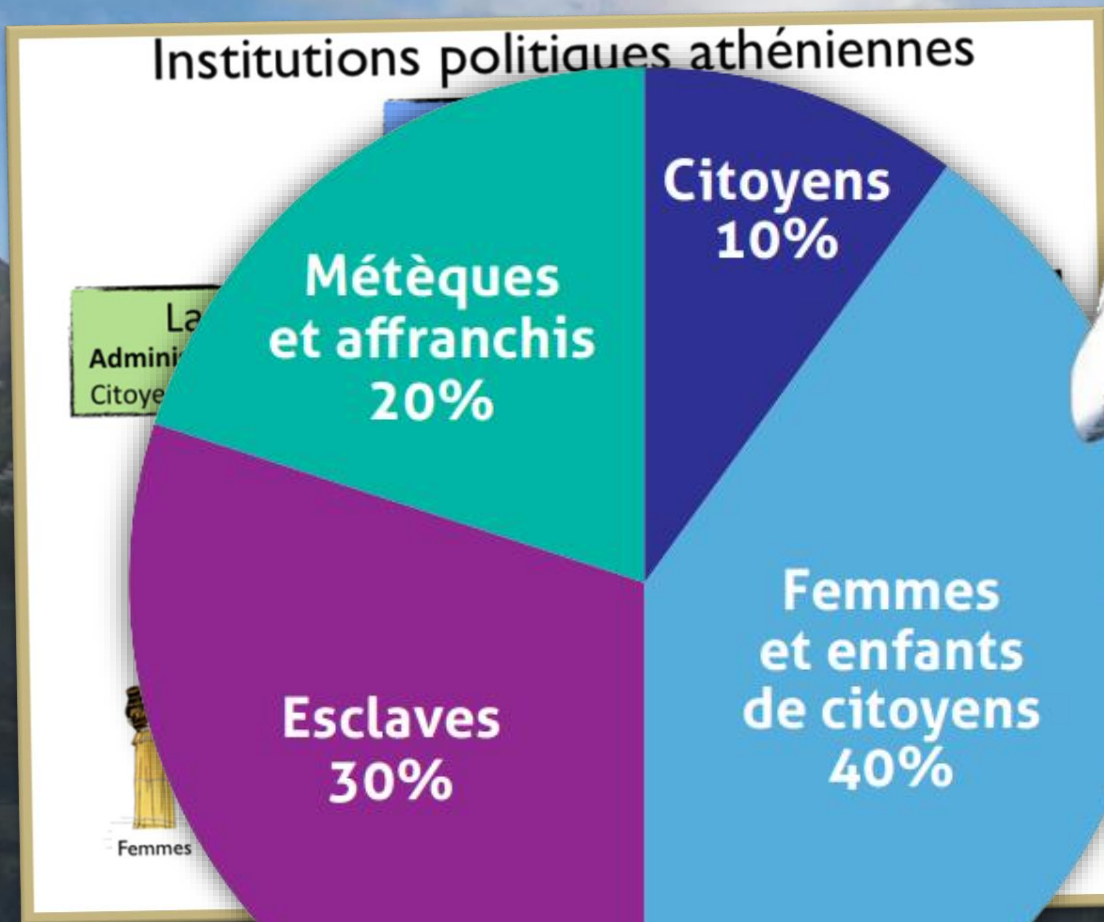
**3)** La Grèce antique a-t-elle inventé la démocratie ?

**But :** être capable de juger pourquoi la démocratie athénienne est **imparfaite**.





## 3) – La Grèce antique a-t-elle inventé la démocratie ?



### UN SEUL HOMME GOUVERNE = LA MONARCHIE



Un roi, assisté d'un Conseil des anciens

S'il s'agit d'un pouvoir absolu, conquis par la force et illégalement, c'est de la **TYRANNIE**.

### UN PETIT NOMBRE GOUVERNE = L'OLIGARCHIE



Les meilleurs guerriers, les riches propriétaires ou les plus anciens (les sages)

### LE PLUS GRAND NOMBRE GOUVERNE = LA DÉMOCRATIE



Les hommes libres, les citoyens

# LA VILLE DE L'ATTIQUE

# ATHÈNES



**3.D)** A l'aide du **Manuel**, pages **16-17**, réponds aux questions.

**D'après Plutarque, quelles sont les 3 formes de gouvernement des cités-États ?**

..... = **Selon vos réponses** .....

..... = .....

..... = .....

**A Athènes, qui sont ceux qui gouvernent la cité et dirigent l'armée ? .....**

**Quelle assemblée les a élus ? .....**

**Et quel conseil les contrôle ? .....**

**Au Ve siècle av. J.-C., combien y a-t-il environ d'habitants à Athènes ?**

.....





 Regarde la vidéo « **Athènes** » (sois attentif aux défauts de la démocratie athénienne).

**3.E)** Complète le schéma de la répartition de la population athénienne avec des noms et des chiffres (**Manuel**, page 17).

Quel nom donne-t-on à un ancien esclave ?

**Selon vos réponses** .....

Et à un non-athénien vivant à Athènes ?

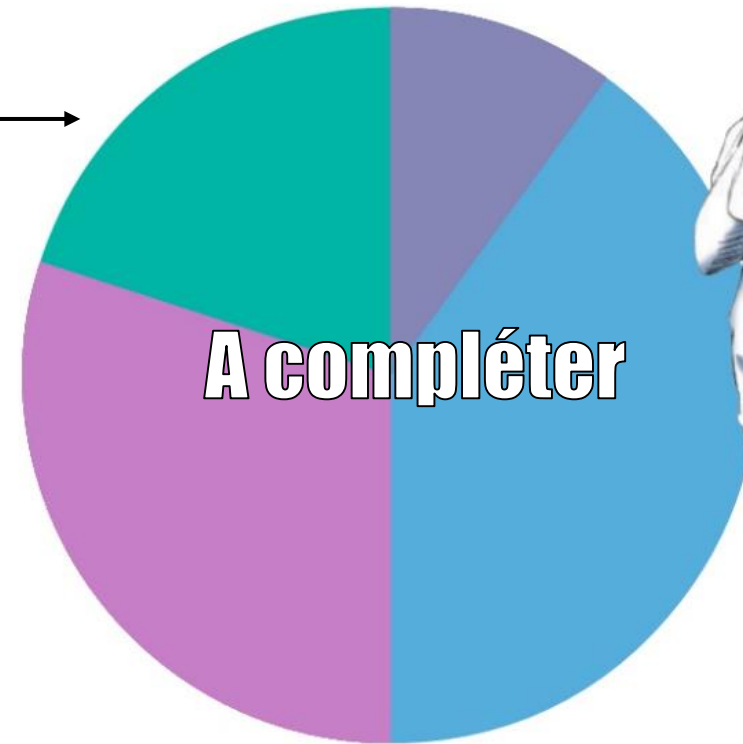
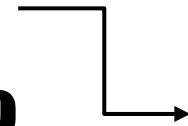
.....

Quels sont les droits d'un esclave ?

.....

Les citoyens ont des droits. Mais ils ont aussi des obligations. Expliques-en deux.

.....





### 3.F) Complète le texte à trous :

Mais la **démocratie** athénienne comporte encore de nombreuses **inégalités** à l'époque : la population est divisée en **catégories** et seuls les **citoyens** profitent des droits. Mais ils ont aussi des **obligations** (militaires par exemple).





### 3) La Grèce antique a-t-elle inventé la démocratie ?

La démocratie athénienne comporte de nombreuses inégalités ?

**oui**

Quelle catégorie est la seule à profiter des droits ?

**les citoyens**

Les citoyennes ont les mêmes droits que les citoyens ?

**non**

Quels genres d'obligations ont par exemple les citoyens ?

**des obligations militaires**





4) Quelle était la religion des Grecs ?

**But : décrire les principales caractéristiques de la religion des Grecs.**





### 4) Quelle était la religion des Grecs ?

#### 4.A) Représentations :

Indique à gauche si la proposition est (V) vraie ou (F) fausse. Indique la correction à droite.

**Les Grecs croyaient en plusieurs dieux.**

**V**

**Les Grecs croyaient que les dieux vivaient au sommet du mont Olympe.**

**V**

**Les Grecs pratiquaient des sacrifices humains pour plaire aux dieux.**

**F**

**Les Grecs pensaient que les dieux avaient des défauts.**

**V**

**La religion majoritaire de nos jours en Grèce reste le polythéisme.**

**F**



# La Grèce antique



4) Quelle était la religion des Grecs ?



Regarde les vidéos « [Le polythéisme](#) » et « [Honorer les dieux](#) ».

Quel pourcentage obtiens-tu au quiz Kahoot ?





## 4) – Quelle était la religion des Grecs ?




«Autel des douze dieux», 1<sup>er</sup> s. ap. J.-C., Le Louvre



# LE POLYTHÉISME



## 4) – Quelle était la religion des Grecs ?



«Athéna et Héraclès», vers -480, Munich



Vidéo

Le Mont Olympe

Durée : 3 minutes

LE MONT 2917m  
**OLYMPPE**



## 4) – Quelle était la religion des Grecs ?

La «Pythie», l'oracle de Delphes



Vidéo

Apollon et Delphes

Durée : 2 minutes

DES  
**SANCTUAIRES**



4) – Quelle était la religion des Grecs ?

## PÉPLOS

Robe traditionnelle brodée

## HÉCATOMBE 100

Grand sacrifice avec viande offerte



# PANATHÉNÉES



Vidéo  
Les Panathénées  
Durée : 4 minutes



**4.B)** Lis la page 18 du **Manuel** pour compléter le tableau comparant le polythéisme grec aux monothéismes contemporains (= de notre époque).

<b>Caractéristiques du polythéisme grec</b>	<b>Comparaison avec les monothéismes</b>
<b>Selon vos réponses</b>	<b>Une seule divinité</b>
<b>Les dieux ont des défauts</b>	
	<b>Prières, cérémonies, règles à respecter...</b>
<b>Ont des rapports charnels avec les humains</b>	
	<b>Ne vivent pas dans un lieu précis sur Terre</b>





# La Grèce antique



4) Quelle était la religion des Grecs ?



 **Complète les définitions :**

**polythéistes** = qui a plusieurs dieux.

**culte** = ensemble des pratiques religieuses.

**sanctuaires** = lieux sacrés.





**4.C)** Complète le texte à trous :

Les Grecs sont **polythéistes** \* . Leurs **12** dieux principaux vivent sur le **mont Olympe** . Les Grecs leur rendent un **culte** \* . Ils construisent des **temples** , organisent des **fêtes** et se rendent dans des **sanctuaires** \* pour les honorer.





### 4) Quelle était la religion des Grecs ?

Quelle est la religion des Grecs de l'Antiquité ?

**le polythéisme\***

Sur quelle montagne les Grecs pensent-ils que vivent les dieux ?

**le mont Olympe**

Comment appelle-t-on un ensemble de pratiques religieuses ?

**un culte\***

Quel nom donne-t-on à un lieu sacré ?

**un sanctuaire\***



4) Quelle était la religion des Grecs ?

**But : découvrir un héros grec et le récit du cheval de Troie.**

**De tête, dresse la liste des dieux grecs que tu connais. Connais-tu aussi des héros ?**

**Selon vos réponses** .....

.....

 Regarde les vidéos « **La mythologie** » et  « **Les héros** ».

 Quel pourcentage obtiens-tu au quiz *Kahoot?*



## 4) – Quelle était la religion des Grecs ?

### Héraclès = Hercule

- 
1. Il rapporte la peau du terrible lion de Némée après l'avoir étouffé. Il s'en fait une protection.
  2. Il tue l'hydre de Lerne, un énorme serpent surmonté de 9 têtes qu'il décapite une à une.
  3. Après une course d'un an, il capture la biche du mont Cérynie, si rapide que personne n'avait jamais pu l'attraper.
  4. Il ramène vivant le féroce sanglier de la montagne d'Erymanthe.
  5. Il nettoie en une journée les écuries du roi Augias où étaient enfermées plus de 3 000 bêtes.
  6. Il abat les oiseaux du lac Stymphale, qui dévorent les hommes.
  7. Il dompte le terrible taureau de Minos, qui terrorise les habitants de Crète.
  8. Il capture les juments de Diomède qui mangent les naufragés.
  9. Il s'empare de la ceinture d'or d'Hippolyte, la reine des Amazones.
  10. Il attrape les troupeaux de boeufs de Géryon, un géant qui possède 3 corps et 3 têtes.
  11. Il fait cueillir par le géant Atlas les pommes d'or du jardin des Hespérides avant de s'en emparer.
  12. Il ramène Cerbère, le chien à 3 têtes et à queue de dragon qui garde les Enfers.


Cheval de Troie  
(ou trojans)





LES  
HÉROS





### 4.D) Indique le nom du dieu ou de la déesse qui convient (voir page 18 du Manuel).


A. Des Jeux héréens sont organisés pour les jeunes filles  
 p. 12.


B. De nombreux commerçants parcourent le monde grec  
 p. 14.


C. L'agriculture est variée autour des cités : vin, huile d'olive, céréales, élevage  
 p. 14.


D. À Delphes, la Pythie entend la voix d'un dieu  
 p. 18.

E. Athènes a vu naître la démocratie  
 p. 17.

F. À Olympie, les athlètes jurent devant la statue d'un dieu  
 p. 11.

G. Les cités grecques se font très souvent la guerre  
 p. 15.

H. Les cités fabriquent et exportent outils, armes, armures grâce à la métallurgie  
 p. 14.

I. Les Grecs dépendent de la mer pour se déplacer et se nourrir  
 p. 14.







**4.F) Complète le texte à trous :**

Les Grecs croyaient aussi à des **héros** puissants, comme **Héraclès** et ses 12 travaux. Ils se racontaient les récits d'**Homère** sur la guerre de **Troie** lors de laquelle un cheval de **bois** aurait permis aux Grecs de s'imposer en s'introduisant dans la ville par la ruse.



 Regarde la vidéo « **D'autres mythologie** ».





4) Quelle était la religion des Grecs ?

Quel héros doit accomplir 12 travaux ?

**Héraclès**

Quelle guerre mythique se racontaient les Grecs ?

**la guerre de Troie**

Qui est l'auteur du récit de la guerre de Troie ?

**Homère**

Par quelle ruse les Grecs seraient entrés dans Troie ?

**un cheval de bois**



5) Quelle est l'origine des Jeux olympique et quel est leur rôle ?

**But : décrire les Jeux olympiques antiques et indiquer leur rôle pour les Grecs.**





**5) Quelle est l'origine des Jeux olympiques et quel est leur rôle ?**

**5.A) Représentations :**

**Indique à gauche si la proposition est (V) vraie ou (F) fausse. Indique la correction à droite.**

**Les Jeux olympiques se déroulaient à Sparte.**

**F**

**Zeus était marié à la déesse Héra.**

**V**

**Les athlètes grecs étaient toujours nus aux Jeux olympiques.**

**F**

**Il y a des Jeux olympiques réservés aux femmes.**

**V**

**Pierre de Coubertin fait renaître les Jeux olympiques vers 1900.**

**V**



# La Grèce antique



5) Quelle est l'origine des Jeux olympiques et quel est leur rôle ?

▶ Regarde les vidéos : « La naissance des Jeux olympiques » et ▶ « L'esprit de compétition ».

📺 Quel pourcentage obtiens-tu au quiz Kahoot ?

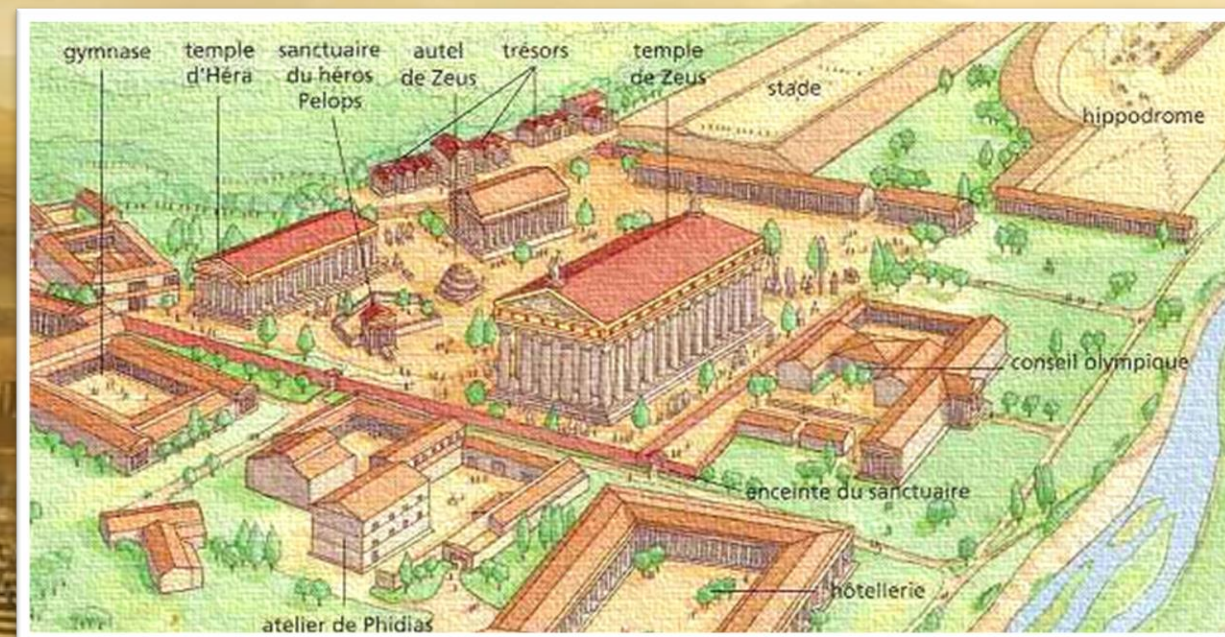




5) – Quelle est l'origine des Jeux et quel est leur rôle dans le monde grec ?



Aujourd'hui



Plan de la ville d'Olympie

**-776 LES PREMIERS JEUX OLYMPIQUES**



**5.B)** Cherche en page 10 du **Manuel** les réponses aux questions :

**Qui annonce les Jeux dans les autres cités ?** ..... **Selon vos réponses** .....

**Quel nom est donné à l'interdiction de faire la guerre pendant les Jeux ?**

.....  
**Pourquoi d'autres cités instaurent leurs propres jeux ?**

.....  
**De retour chez eux, comment sont vus les athlètes victorieux ?**

.....  
**Cite 2 conditions imposées à l'athlète pour pouvoir participer aux Jeux :**

.....  
**Quels sont les 3 sports représentés par les images de la page 10 du Manuel ?**



# La Grèce antique



51) Quelle est l'origine des Jeux olympiques et quel est leur rôle ?

 Regarde la vidéo : « [Les épreuves des Jeux](#) ».

 Quel pourcentage obtiens-tu au quiz **Kahoot** ?





5) – Quelle est l'origine des Jeux et quel est leur rôle dans le monde grec ?

**COURSE**



**DISQUE**



**JAVELOT**



**SAUT**



**LUTTE**




**CHARS**





5) – Quelle est l'origine des Jeux et quel est leur rôle dans le monde grec ?



Vidéo

Les Jeux Olympiques

Durée : 3 minutes



Que voyez-vous sur cette image ?



## 5.C) Complète le texte à trous :

En **-776** , les premiers Jeux olympiques ont lieu en l'honneur de **Zeus** à **Olympie** . Au début, une seule épreuve : la **course** . Puis : lutte, **disque** , javelot ou courses de chars. Le sport permet de se préparer à la **guerre** et l'esprit de **compétition** est mis en avant.





**5) Quelle est l'origine des Jeux olympiques et quel est leur rôle ?**

**A quelle date ont lieu les premiers Jeux olympiques ?**

**-776**

**En l'honneur de qui et où ont lieu les Jeux olympiques grecs ?**

**de Zeus / à Olympie**

**Donne 5 exemples de sports pratiqués aux Jeux olympiques antiques :**

**course, lutte, disque, javelot, courses de chars**

**A quoi préparent les Jeux ? Quel genre d'esprit mettent-ils en avant ?**

**à la guerre / l'esprit de compétition**



**5)** Quelle est l'origine des Jeux olympiques et quel est leur rôle ?

**But : utiliser des sources pour analyser l'évolution de la place des femmes aux Jeux.**





**5.D)** Cherche dans les sources historiques de la page 12 du **Manuel** des informations sur la participation ou l'interdiction pour les femmes de participer aux Jeux antiques.

D'après les découvertes archéologiques (docs **11** et **14**), les femmes participaient-elles aux Jeux ?

**Oui** ou **non** : ..... Justifie : **Selon vos réponses** .....

D'après les sources écrites (dis si **oui** ou **non** et justifie brièvement)

Dans le doc 12 : .....


Dans le doc 13 : .....

 Regarde la vidéo : « **Participer aux Jeux** ».  Quel % obtiens-tu au **Kahoot** ? .....





5.E)



**Que représentent les anneaux olympiques ?** **Corrections orales** .....

**Combien y a-t-il de couleurs différentes ?** .....

**Pourquoi ce choix de couleurs ?** .....

.....





**5.F) 📺** Regarde la vidéo : « **Les femmes aux JO** ». **K!** Quel % obtiens-tu au **Kahoot** ?

**Comment s'appelle celui qui relance les Jeux olympiques en 1896 ?**

**Correction orale**.....

**Lis le doc 15 de la page 13 du Manuel où il exprime son avis sur le « véritable héros olympique ».**

**Explique en utilisant des arguments historiques pourquoi sa vision ne correspond pas à la réalité de la Grèce antique.**

**Selon vos réponses**.....  
.....

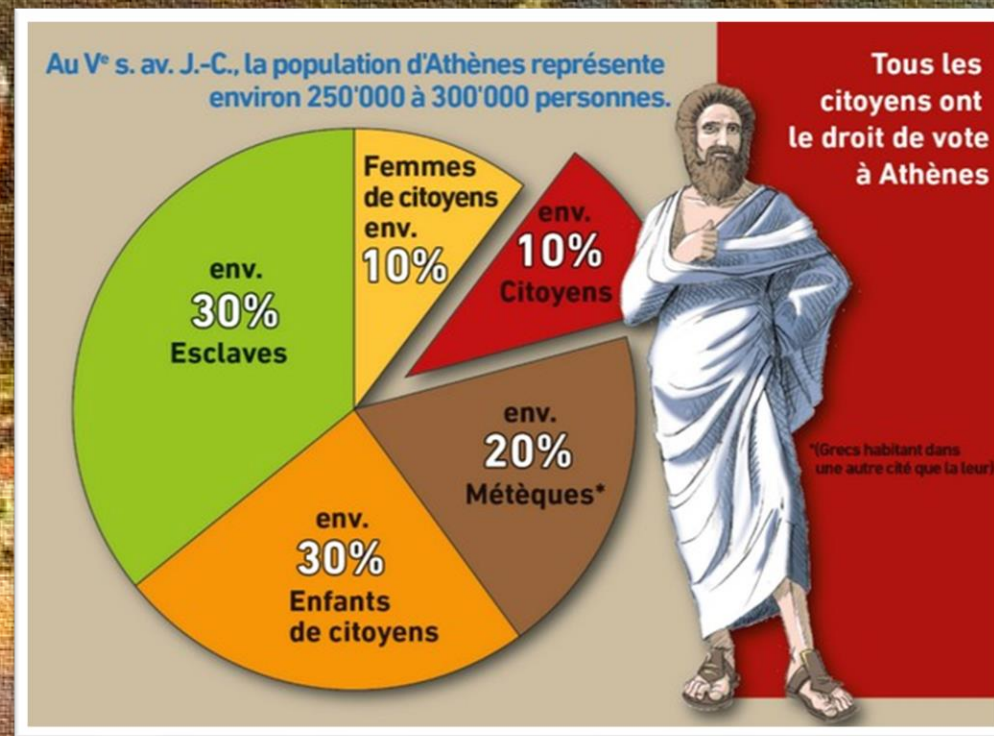




5) – Quelle est l'origine des Jeux olympiques et quel est leur rôle ?



HERAIA



DES JEUX POUR LES  
**CIToyENS**





### 5) – Quelle est l'origine des Jeux olympiques et quel est leur rôle ?

«Je n'approuve pas personnellement la participation des femmes aux concours publics, ce qui ne signifie pas qu'elles doivent s'abstenir de pratiquer un grand nombre de sports, mais sans se donner en spectacle. Aux Jeux olympiques, leur rôle devrait être surtout, comme aux anciens tournois, de couronner les vainqueurs.»

**Pierre de Coubertin**, entrevue accordée au journal *Le Sport suisse*, 7 août 1935.

«Le seul véritable héros olympique, je l'ai dit, c'est l'adulte mâle individuel. Par conséquent, ni femmes, ni sports d'équipes.»

**Pierre de Coubertin** s'exprimant dans *Le Journal*, Paris, 27 août 1936.

UNE PARTICIPATION  
FÉMININE





## 5.G) Complète le texte à trous :

Femmes, **étrangers** et esclaves n'ont **pas** le droit de participer aux Jeux **olympiques** qui sont réservés aux **citoyens** grecs. Mais il existe aussi des Jeux réservés aux **femmes**, notamment en l'honneur de la déesse **Héra** (les femmes **mariées** ne peuvent pas y participer).





**5) Quelle est l'origine des Jeux olympiques et quel est leur rôle ?**

Qui n'a pas le droit de participer aux Jeux olympiques ?

**Femmes, étrangers et esclaves**

Qui sont les seuls à participer aux Jeux olympiques ?

**les citoyens**

En l'honneur de quelle déesse se tiennent les Jeux féminins ?

**Héra**

Quelle catégorie de femmes ne peuvent pas participer aux Jeux féminins ?

**les femmes mariées**



6) Pourquoi Alexandre le Grand a-t-il marqué son époque ?

**But : découvrir Alexandre le Grand et ses principales conquêtes.**





**6) Pourquoi Alexandre le Grand a-t-il marqué son époque ?**

**6.A) Représentations :**

Indique à gauche si la proposition est (V) vraie ou (F) fausse. Indique la correction à droite.

**Alexandre le Grand a battu César sur le territoire romain.**

**F**

**Alexandre le Grand est allé jusqu'en Inde.**

**V**

**Cléopâtre était issue d'une famille grecque.**

**V**

**Alexandrie est encore une ville d'Égypte.**

**V**

**Il y avait un phare géant dans la ville d'Alexandrie.**

**V**



# La Grèce antique



6) Pourquoi Alexandre le Grand a-t-il marqué son époque ?




 Regarde la vidéo : « **Alexandre le Grand** ».

 Quel pourcentage obtiens-tu au **Kahoot** ?





6] – Pourquoi Alexandre le Grand a-t-il marqué son époque ?



Objectif 11 A)

Alexandre : sa jeunesse

Durée : 6 minutes

**-356 à -323 Mort à 33 ans**



Objectif 11 A)

Alexandre : roi

Durée : 5 minutes

**LES CONQUÊTES D'  
ALEXANDRE**



**6.B)** Cherche en page **35** du **Manuel** les réponses aux questions :

**Quelle est l'attitude d'Alexandre envers les coutumes et la religion des peuples conquis ?**

**Selon vos réponses**

.....

**A quel âge meurt Alexandre ?**

.....

**Qui se partage son empire ?**

.....

**Quel nom portent les royaumes qu'ils créent ?**

.....

**Quel général devient roi d'Égypte ?**

.....

**L'autre nom de son royaume ?**

.....







6] – Pourquoi Alexandre le Grand a-t-il marqué son époque ?



Objectif 11 B]

Alexandre : en Inde

Durée : 10 minutes

**DARIUS III**  
ROI DES PERSES

**-332 Alexandre Pharaon**

**-330 Mort de Darius III**

**-326 Bataille de l'Hydaspe**



Mosaïques de la bataille d'Issos, 5,82m sur 3,31m, vers -300, Pompéi-Naples



**6.C)  Regarde la vidéo : « Les conquêtes d'Alexandre » et réponds aux questions ci-dessous :**

**Résume l'épisode du « nœud gordien » : .....**

**Corrections orales en classe / en cas d'absence, l'indiquer dans le dossier**

**Cite trois villes perses :**

**Que fait Alexandre lorsqu'il s'empare du palais du roi des perses ?**





## 6.D) Complète le texte à trous :

Alexandre le **Grand** , roi de **Macédoine** , va soumettre les Grecs et en faire ses alliés. Il conquiert de vastes régions : **Égypte** , **Perse** et va jusqu'en **Inde** . Mort à **33** ans sans héritier, ses **généraux** se partagent son empire puis une autre puissance impose son influence : **Rome** .





**6) Pourquoi Alexandre le Grand a-t-il marqué son époque ?**

De quel premier royaume Alexandre est-il le roi ?

**la Macédoine**

En plus de la Grèce, quels territoires conquiert Alexandre le Grand ?

**Égypte, Perse et Inde**

A quel âge meurt Alexandre le Grand ?

**33 ans**

Quels personnages se partagent son empire à la mort d'Alexandre le Grand ?

**ses généraux**



6) Pourquoi Alexandre le Grand a-t-il marqué son époque ?

**But : présenter la ville d'Alexandrie et expliquer la notion d'hellénisation.**



# La Grèce antique



6) Pourquoi Alexandre le Grand a-t-il marqué son époque ?



 Regarde la vidéo : « [Alexandrie et le Pharos](#) ».

 Quel pourcentage obtiens-tu au Kahoot ?





6] – Pourquoi Alexandre le Grand a-t-il marqué son époque ?




**PLAN ORTHOGONAL**

C'EST-À-DIRE EN DAMIER

**PHARE D'ALEXANDRIE**

VERS -275, LA 7<sup>E</sup> MERVEILLE DU MONDE



**AU SUD DE L'ÎLE DE**


**PHAROS**



**6.E) A l'aide des documents projetés, propose une représentation en coupe d'Alexandrie à l'époque des Ptolémées.**

**Tu y ajouteras les noms de**

- Phare
- Sérapéum
- Grande bibliothèque



**Pourquoi parle-t-on de « culture métissée » dans le cadre de l'hellénisation ?**

**Correction orale en classe**

---

---





# La Grèce antique



6) Pourquoi Alexandre le Grand a-t-il marqué son époque ?



**6.F) Identifie les Sept Merveilles du monde (les monuments les plus fameux de l'Antiquité).**


Pyramide de Khéops / Jardins suspendus / Statue de Zeus / Temple d'Artémis / Mausolée d'Halicarnasse / Colosse de Rhodes / Phare d'Alexandrie



.....  
.....



.....  
.....



.....  
.....

**Corrections en classe**



.....  
.....



.....  
.....



.....  
.....



.....  
.....



**6.G) Complète le texte à trous :**

**Alexandre le Grand fonde de nombreuses villes, comme **Alexandrie** en Égypte, dont le **phare** était l'une des **Sept** Merveilles du monde. Il diffuse le mode de vie et la culture **grecque** dans les pays conquis : c'est ce que l'on appelle l'**hellénisation**.**





**6) Pourquoi Alexandre le Grand a-t-il marqué son époque ?**

Quelle ville fonde Alexandre le Grand en Égypte ?

**Alexandrie**

Quel monument célèbre trouve-t-on à Alexandrie ?

**un phare (aussi une bibliothèque)**

Combien y a-t-il de « Merveilles du monde » ?

**7**

Quel nom donne-t-on à la diffusion du mode de vie et de la culture grecque ?

**l'hellénisation**



## Lexique

<b>polis</b>	= veut dire « cité » en grec.
<b>colonie</b>	= territoire détenu hors de ses propres frontières.
<b>spartiate</b>	= signifie « strict », « à la dure ».
<b>Parthénon</b>	= temple dédié à Athéna à Athènes.
<b>Acropole</b>	= dans une cité, partie en hauteur.
<b>démocratie</b>	= système dans lequel le peuple a le pouvoir.
<b>polythéiste</b>	= qui a plusieurs dieux.
<b>culte</b>	= ensemble des pratiques religieuses.
<b>sanctuaire</b>	= lieu sacré.