

1

QU'EST-CE QUE LA RENAISSANCE ?



But : créer une carte de l'origine et de la diffusion de la Renaissance.

1.A) Indique à gauche si la proposition est (V) vraie ou (F) fausse. Corrige à droite.

	La Renaissance se situe à cheval entre Moyen Âge et Temps modernes.	
	Léonard de Vinci vivait à la période de la Renaissance.	
	La Renaissance débute avec la Révolution française.	
	Michel-Ange, Reagan et Bush sont des peintres de la Renaissance.	
	Florence se situe dans la région italienne de la Toscane.	

Résultat : / 5

Regarde la vidéo « Définir et situer la Renaissance ». Quel pourcentage au Kahoot ?

1.B) Complète la carte selon les instructions (voir la carte de la page 23 du Manuel).

- Hachure en rouge les 2 premiers foyers de la Renaissance, en bleu le foyer plus tardif.

- Place une croix et écris « châteaux de la Loire ».

Le titre :

- « 1400-1600 Renaissance et humanisme »

Dessine un ● et place les villes de :

- Florence, Rome, Bâle

Place sur la région correspondante :

- Flandres

Écris ces noms dans le pays correspondant :

- François Ier
- Gutenberg



1.C) Complète le texte à trous :

La Renaissance (qui va de à environ, mais qui commence avant en)

est une période de, où les et les de l'.....

semblent renaître. La en devient aussi un foyer avec le roi et


les célèbres châteaux de la

But : présenter la ville de Florence, le « berceau de la Renaissance ».

Regarde la vidéo « [Florence et la Renaissance](#) ». Quel pourcentage au Kahoot ?

1.D) A l'aide des modèles projetés, représente une vue en coupe de la ville de Florence.

N'oublie pas les couleurs caractéristiques de la ville.



1.E) Réponds aux questions à l'aide des éléments donnés durant le cours.

Quelles sont les 2 principales raisons qui poussent de riches personnages à devenir mécènes ?

1.
2.

Rédige un texte qui fait un lien entre le mécénat des Médicis et le « *sponsoring* » (parrainage en français) de notre époque. Évoque les grands marques (de vêtements ou de console par ex.).

.....
.....
.....

Quel très célèbre peintre, auteur notamment du « Cortège du roi mage Gaspard », a beaucoup peint pour les Médicis.

Plusieurs de ses tableaux ont une particularité, comme l'Adoration des mages ci-contre, laquelle et pourquoi.



.....
.....
.....

Complète les définitions :

mécène =


dôme =

1.F) Complète le texte à trous :

On dit de la ville de (en Toscane) que c'est le « de la Renaissance » car on y trouve de très nombreux et auteurs. Ils sont attirés par une riche famille, les, qui domine la ville et se comporte en *. On y trouve toujours, au milieu de toits rouges, le célèbre « * » de la cathédrale.

2

QU'EST-CE QUE L'HUMANISME ?



But : définir la notion d'humanisme.

2.A) Indique à gauche si la proposition est (V) vraie ou (F) fausse. Corrige à droite.

	Vers la fin de la Renaissance, on découvre l'électricité.	
	A l'époque de la Renaissance, Neuchâtel est déjà suisse.	
	Les humanistes mettent l'humain au centre de leurs travaux.	
	Quelqu'un d'humaniste souhaite l'amélioration de la vie des humains.	
	« Misanthrope » est l'autre nom utilisé pour désigner un humaniste.	

Résultat : / 5

📺 Regarde la vidéo « Définir l'humanisme ». **K!** Quel pourcentage au Kahoot ?

2.B) Dans la liste de mots-clés ci-dessous, indique ceux qui correspondent à l'humanisme de la période de la Renaissance.

- Soif de connaissance - Méfiance envers les hommes - Esprit fermé - L'homme au centre
 Rejet de la religion - Égalité homme/femme - Traduire des textes anciens - Curiosité

2.C) Après la présentation de cette peinture en classe, réponds aux questions ci-dessous :

Quel est le nom de ce tableau ?

.....

Qui est le peintre ?

.....

Indique 2 éléments qu'on ne voit pas tout de suite mais qui donnent tout son sens au tableau :

.....

.....



2.D) Complète le texte à trous.

L'humanisme est le courant qui accompagne la Les humanistes cherchent à le monde et mettent l' au centre de leurs préoccupations (et moins). L'..... est un bon exemple de cette scientifique nouvelle.

But : comprendre le rôle de l'invention de l'imprimerie.

🎥 Regarde la vidéo « [Gutenberg et l'imprimerie](#) ». 🎮 Quel pourcentage au Kahoot ?

2.E) Indique les numéros correspondant aux activités dans l'atelier d'imprimeur :


1. Il transporte du papier.
2. Il met de l'encre sur les caractères mobiles avant d'imprimer une page.
3. Il serre la presse qui permet d'imprimer une page.
4. Il range la feuille qui vient d'être imprimée.
5. Il relit ce qui a été imprimé.
6. Il range les caractères mobiles.



2.F) Dessine ci-contre un « flyer » (une petite affiche) publicitaire qui aurait pu être placardé dans les rues à l'époque de la Renaissance pour vanter les mérites de cette invention nouvelle : l'imprimerie.

Pense par exemple aux éléments suivants :

- Les caractères mobiles
- La presse à bras
- Le nom de l'inventeur
- Le coût
- La vitesse de production
- Le type de choses imprimée
- L'humanisme
- ...



2.G) Complète le texte à trous.

Vers , l'allemand invente l' Il utilise des caractères et une à bras. Avant, on copiait à la , c'était long et les livres étaient chers. L'imprimerie accompagne l'..... car elle permet une diffusion plus rapide et moins coûteuse des nouvelles.

3

QUELS HUMANISTES ONT MARQUÉ LA RENAISSANCE ?



But : découvrir les travaux de Vésale, Copernic et Galilée.

3.A) Indique à gauche si la proposition est (V) vraie ou (F) fausse. Corrige à droite.

	Les premières transplantations d'organes datent de la fin du Moyen Âge.	
	Les premiers virus à être vus au microscope ne le sont que vers 1930.	
	Le géocentrisme est la théorie qui dit que la Terre est le centre de l'univers.	
	Le 1er robot envoyé sur Mars l'est en 1996 (son nom = Sojourner).	
	Le 20 juillet 1989, l'homme marche pour la 1 ^{ère} fois sur la Lune.	

Résultat : / 5

📺 Regarde la vidéo « [Vésale, Copernic & Galilée](#) ». 📺 Quel pourcentage au Kahoot ?

3.B) A l'aide du Manuel, pages 26-27, réponds aux questions.

Sur quoi se base la méthode scientifique ? et

Qu'est-ce qui favorise la diffusion des découvertes scientifiques ?

A quelle date Galilée publie-t-il son « Dialogue » ?

Quelle conception du monde place le Soleil au centre de l'univers ?

Quel est le titre de l'ouvrage de Vésale ?

Qui décrit la circulation sanguine vers 1550 ?

Quel médecin français met au point la ligature des artères ?

✍️ Complète les définitions :

dissection =

héliocentrisme =

3.C) Complète le texte à trous.

Parmi les humanistes célèbres :, médecin qui pratique la*. Le polonais, qui défend l'* (= la tourne autour du et non l'inverse). L'italien qui le prouve aussi mais qui sera lourdement condamné par l'Eglise (qui soutient que la Terre est).

But : découvrir les travaux de Paracelse et Érasme.

Regarde la vidéo « [Paracelse et Érasme](#) ». **K!** Quel pourcentage au **Kahoot** ?

3.D) Identifie ces personnages :



.....

3.E) A l'aide du **Manuel** à la page **24**, indique 7 villes dans lesquelles Érasme a vécu :

-
-
-
-
-
-
-

3.F) Comment bien se préparer au Bilan de mi-chapitre ? Quelques conseils :

- Être capable de proposer une réponse de **plusieurs lignes** pour chaque question.
- Rappel des questions :
 - 1) Qu'est-ce que la Renaissance ?**
 - 2) Qu'est-ce que l'humanisme ?**
 - 3) Quels humanistes ont marqué la Renaissance ?**
- Relire les **encadrés** de bas de page pour aller à l'essentiel.
- Pouvoir citer des **noms**, donner des **dates** ou des **exemples** de ce dont vous parlez.
- Connaître les **définitions** du vocabulaire.

3.G) Complète le texte à trous.

La ville de est le centre de la Renaissance en Suisse. L'étrange ,
 médecin , qui invente une première forme de y a vécu.
 Comme , auteur ayant beaucoup voyagé, qui y publie ses livres
 qui critiquent certaines pratiques du

4

POURQUOI Y A-T-IL UNE « RENAISSANCE DES ARTS » ?



But : comprendre quelles techniques changent les arts.

4.A) Indique à gauche si la proposition est (V) vraie ou (F) fausse. Corrige à droite.

Monna Lisa (La Joconde) est l'abréviation de «Madonna» (Madame) Lisa del Giocondo.	
La technique qui donne de la profondeur aux tableaux s'appelle « enluminure ».	
La chapelle Seventeen à Rome a de célèbres plafonds peints par Michel-Ange.	
Les tortues ninja sont : Leonardo, Donatello, Michelangelo et Raphaël.	
Picasso arrive juste après la Renaissance, vers 1680-1700.	

Résultat : / 5

Regarde la vidéo « La Renaissance des arts ».

Quel pourcentage obtiens-tu au quiz Kahoot ?

4.B) Coche les affirmations correctes pour apprendre à différencier un tableau de la Renaissance d'une œuvre du Moyen Âge.



- Architecture d'inspiration antique
- Utilisation de la perspective
- Précision des détails
- Peinture en un seul plan
- Thème biblique
- Jeu d'ombres et de lumières
- Peinture à l'huile
- Cadre (paysage) réaliste

A	<input type="checkbox"/>	B	<input type="checkbox"/>
	<input type="checkbox"/>		<input type="checkbox"/>
	<input type="checkbox"/>		<input type="checkbox"/>
	<input type="checkbox"/>		<input type="checkbox"/>
	<input type="checkbox"/>		<input type="checkbox"/>
	<input type="checkbox"/>		<input type="checkbox"/>
	<input type="checkbox"/>		<input type="checkbox"/>
	<input type="checkbox"/>		<input type="checkbox"/>
	<input type="checkbox"/>		<input type="checkbox"/>



Complète la définition :

perspective =

4.C) Complète le texte à trous.

Dans le domaine des arts, on utilise de nouvelles artistiques comme la * ou la peinture à l'..... . De nouveaux thèmes apparaissent :, ou par exemple. Les artistes attachent de l'importance au de ce qu'ils représentent (proportions,, détails...).

But : découvrir qui sont les « maîtres de la Renaissance ».

De tête, dresse une liste des peintres célèbres que tu connais.

Regarde la vidéo « [Les maîtres de la Renaissance](#) »

Quel pourcentage obtiens-tu au quiz Kahoot ?

4.D) Relie entre eux les éléments qui se correspondent.

- | | |
|---------------------|----------------------------------|
| Monna Lisa • | • sculpture de Michel-Ange |
| Sandro Botticelli • | • La naissance de Vénus |
| Michel-Ange • | • se situe à Florence |
| Léonard de Vinci • | • La Joconde |
| David • | • se situe à Paris |
| Musée des Offices • | • plafond de la chapelle Sixtine |
| Musée du Louvre • | • meurt à Amboise (FR) |

4.E) Identifie ces œuvres, ces maîtres ou ces lieux.



4.F) Complète le texte à trous.

Léonard de (..... , peintre et sculpteur) peint la que l'on peut voir au musée du à Paris peint le plafond de la chapelle à Rome et a sculpté le Sandro peint la Naissance de Vénus que l'on peut admirer au musée des à

5

QUE SONT LES « GRANDES DÉCOUVERTES » ?



But : étudier le contexte de la découverte de l'Amérique.

5.A) Indique à gauche si la proposition est (V) vraie ou (F) fausse. Corrige à droite.

	Le continent américain est « découvert » par Christoph Colomb en 1492.	
	Les Vikings avaient déjà voyagé jusqu'en Amérique vers l'an 1000.	
	La « carabas » est un type de navire portugais inventé au XVe.	
	Les explorateurs européens pensaient que la Terre était plate.	
	Christoph Colomb meurt sans savoir avoir découvert un continent inconnu.	

Résultat : / 5

Regarde la vidéo « [Les grandes découvertes](#) ».

Quel pourcentage obtiens-tu au quiz **Kahoot** ?

5.B) Lis le document **14** et réponds aux questions.

14 ●●●●●●●●●●

● Je vous écris cette lettre, pour que vous sachiez que je suis arrivé aux Indes en vingt jours. L'île Espagnole est une véritable merveille. La terre en est si belle qu'elle semble également appropriée pour semer et cultiver, pour élever n'importe quelle classe de bétail, ou pour construire des villes et des villages. Il y a beaucoup de grandes rivières, dont l'eau est excellente; et la plupart d'entre elles charrient de l'or. Les habitants de cette île ne connaissent pas le fer, ni l'acier; ils ne possèdent pas d'armes et ne savent pas s'en servir.

Adapté de la première lettre des Indes de Christophe Colomb, éditée en 1493.

D'après Christophe Colomb, quels sont les avantages de l'île découverte ?

.....
.....
.....

Que cherche-t-il à prouver aux souverains espagnols ?

.....
.....
.....

Complète la définition :

Antilles =

5.C) Complète le texte à trous.

La Renaissance est l'époque de grands Italien naviguant pour l'..... , Christophe atteint les * en , il cherche un passage par l'Ouest vers les C'est Vespucci qui poursuit ses découvertes et comprend que c'est un nouveau

But : décrire d'autres grandes expéditions européennes au XVIe siècle.

Regarde la vidéo « [Les grands explorateurs](#) ». **K!** Quel % obtiens-tu au quiz **Kahoot** ?

5.D) En utilisant des couleurs, en donnant un titre et des légendes, construis une carte des explorations de : Christoph Colomb ; Vasco de Gama ; Magellan ; Jacques Cartier.



5.E) D'après toi, quels sont les acteurs concernés par les motivations ci-dessous : les souverains (S), les marchands (M), les explorateurs (E) ou les religieux (R) ? Entoure leur(s) initiale(s).


	Acteurs		Acteurs
Convertir au christianisme	S M E R	Acheminer des épices	S M E R
Agrandir leur territoire	S M E R	Curiosité	S M E R
Soif de richesses	S M E R	Goût de l'aventure	S M E R

5.F) Complète le texte à trous.

Juste avant 1500, Vasco de atteint les Indes en passant au de l'..... .
 Vers , le portugais « achève » le premier tour du monde, mais il trouve la mort en cours de voyage. L'explorateur français Jacques explora vers une terre qu'il nommera (on parle toujours français au).

6

QUELLES SONT LES CONSÉQUENCES DE LA COLONISATION ?



But : s'interroger sur les **conquistadores** et leurs **conquêtes**.

6.A) Indique à gauche si la proposition est (V) vraie ou (F) fausse. Corrige à droite.

	Il existe de grands empires en Amérique (centrale et du Sud).	
	On y découvre la pomme de terre (qui n'existait pas en Europe).	
	Ce sont l'Espagne et l'Angleterre qui conquièrent l'Amérique du Sud.	
	En 1492, 25 mio. d'Amérindiens peuplent le Mexique. Plus qu'1 mio. en 1605.	
	La religion des Amérindiens en 1492 était le christianisme.	

Résultat : / 5

Regarde la vidéo « [Le partage du monde](#) ». Quel % obtiens-tu au **Kahoot** ?

6.B) Cherche en pages **44-45** du **Manuel** les réponses aux questions :

Quel mot espagnol désigne un conquérant de l'Amérique central et du Sud ?

Indique 2 facteurs (= des raisons, des explications) de la rapidité de leurs immenses conquêtes ?

1.
2.

Quel espagnol conquiert le Mexique ? Quel empire occupe ce territoire et combien d'habitants y vivaient ?

Qui est l'empereur des aztèques ? Quel conquistador s'empare du Pérou et quel empire occupait ce territoire ?

Complète la définition :

conquistadores =

6.C) Complète le texte à trous.

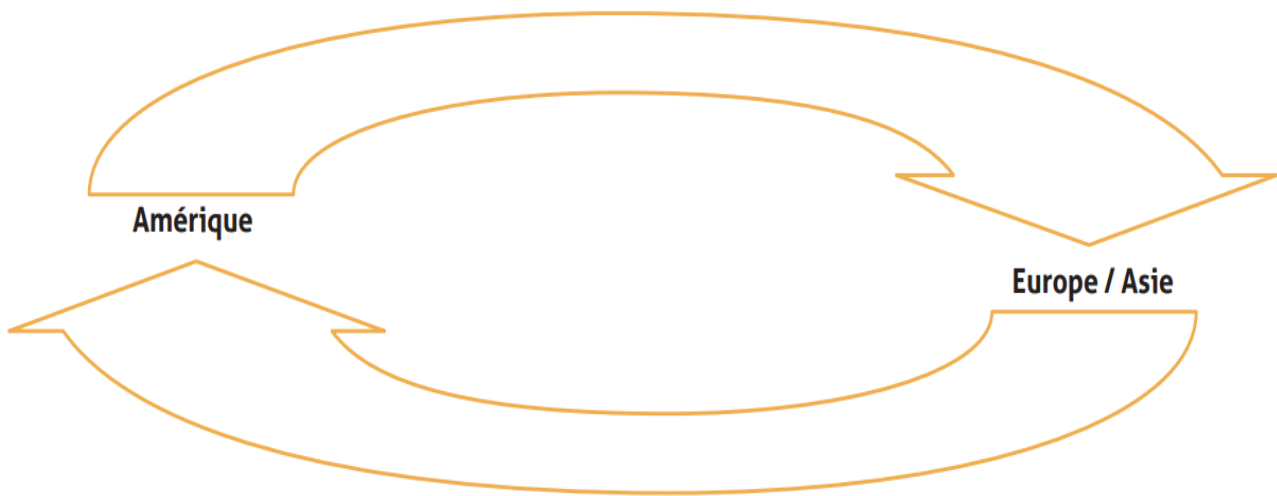
Ce sont principalement le et l'..... qui se partagent les découvertes. Les* s'imposent par la, par exemple qui écrase les aztèques de ou Francisco qui soumet les au prix de nombreux massacres.

But : analyser l'échange colombien et l'exploitation qui en découle.

📺 Regarde la vidéo « [Les conquistadores](#) ». 🎮 Quel % obtiens-tu au Kahoot ?

A l'aide de la page 49 du Manuel, doc.30, place sur chaque flèche les éléments suivants de l'échange colombien en les regroupant par catégories (maladies, animaux, plantes).

Avoine, blé, dinde, cacao, café, canard, canne à sucre, cheval, choléra, cochon, grippe, haricot, lapin, maïs, mouton, pomme de terre, poule, rougeole, tabac, tomate, vache, vanille, vérole



6.D) Propose un menu de restaurant (un peu stylé !) composé exclusivement de produits découverts en Amérique et un menu qui n'en contient aucun.

Entrée	↙	↘
Plat		
Dessert		

✍️ Complète les définitions :

échange colombien =

conversion =

choc microbien =

6.E) Complète le texte à trous.

Le commerce mondial se développe avec l'échange * et de nouveaux produits arrivent en Europe (tomate, maïs, pomme de terre...). Mais les amérindiens sont soumis au forcé (notamment dans les), à la * religieuse et meurent par millions du choc *.